


Αριθμός μαθητή/τριας (βάσει καταλόγου): _____ Ημερομηνία: _____
 Ηλικία: _____ Φύλο: _____ Σχολείο: _____ Τάξη: _____

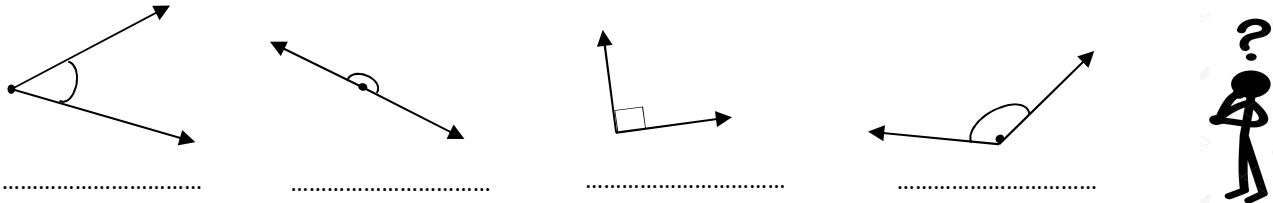
ΑΣΚΗΣΗ 1: Ο Λιχούδης έφτιαξε μια νόστιμη πίτσα και την έκοψε σε 4 κομμάτια. Να συγκρίνεις τη γωνιά του κάθε κομματιού και να γράψεις ποιο κομμάτι πήρε το κάθε στρουμφάκι. [2 μονάδες]



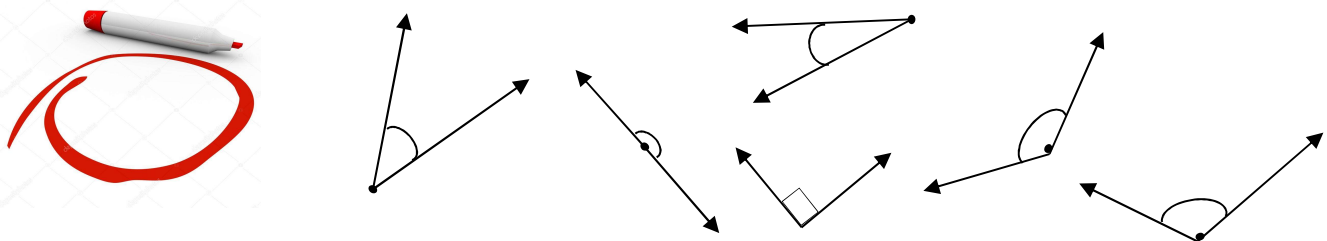
Βάλε τα κομμάτια στη σειρά, ξεκινώντας από το μεγαλύτερο.....

- Ο Λιχούδης πήρε το μεγαλύτερο κομμάτι.
- Η Στρουμφίτα πήρε το μικρότερο κομμάτι.
- Το κομμάτι του Προκόπη ήταν μεγαλύτερο από το κομμάτι του Μπαμπα-Στρουμφ.
- Ποιο κομμάτι πήρε ο Μπαμπα-Στρουμφ;

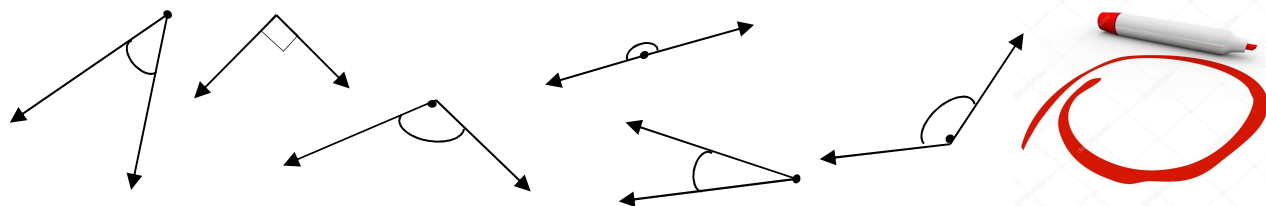
ΑΣΚΗΣΗ 2: Να γράψεις κάτω από την κάθε γωνία αν είναι ορθή, οξεία, αμβλεία ή ευθεία. [2 μονάδες]



ΑΣΚΗΣΗ 3: Να κυκλώσεις όσες γωνίες είναι μικρότερες από μια ορθή γωνία. [2 μονάδες]



ΑΣΚΗΣΗ 4: Να κυκλώσεις όσες γωνίες είναι μικρότερες από μια ευθεία και μεγαλύτερες από μια ορθή γωνία. [2 μονάδες]



ΑΣΚΗΣΗ 5: Να γράψεις δίπλα από την κάθε δήλωση αν η γωνία είναι οξεία, αμβλεία, ορθή, ή ευθεία. [2 μονάδες]

- Αν μια γωνιά ισούται με 90° τότε είναι
- Αν μια γωνιά ισούται με 57° τότε είναι
- Αν μια γωνιά ισούται με 130° τότε είναι
- Αν μια γωνιά ισούται με 180° τότε είναι

